


# Игры с цифрами и числами



1

Выбери картинку,  
которая соответствует этой цифре.


8

2


Выбери цифру,  
которая соответствует этой картинке.



1



2




1

7

2

5

3



4



3

4

4

6

3


Выбери пропущенную картинку.




4

Выбери карточку, на которой составлено число 7.


1




2




1




2




3



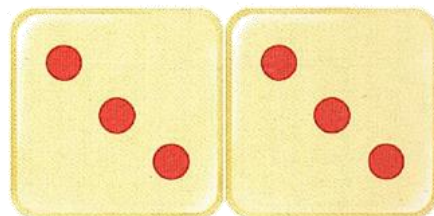
4



3



4



5


Какая цифра пропущена? Выбери соответствующую картинку.




6

Выбери число, в котором два десятка и семь единиц.

1



2




1




2



3



4



3




4



7

Выбери цветок,  
у которого лепестков больше,  
чем у этого.




8


Выбери дом,  
у которого окон меньше,  
чем у этого.



1




2




1



2




3




4



3



4



9

Выбери цифру,  
которая подходит к этому неравенству.

 $5 > \dots$ 

1

7

2

5

1

2

2

6

3

3

4

9

3

1

4

3

10

Выбери цифру,  
которая подходит к этому неравенству.

 $3 < \dots$ 

1

2

2

6

3

3

4

9

3

1

4

3

11


Выбери картинку, на которой  
предметов больше, чем три,  
но меньше чем пять.

12


Какая картинка находится после  
третьей, но перед пятой?



1



2



1




2



3



4



3



4




13

Реши задачу. Выбери правильный ответ.  
У Миши три машинки, а у Димы  
на две больше.  
Сколько машинок у Димы?

1



2



3



4



14

Реши задачу. Выбери правильный ответ.  
У Тани шесть конфет, а у Лены  
на три меньше.  
Сколько конфет у Лены?

1



2



3



4





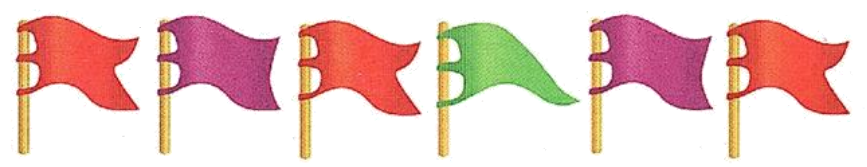
15

Сколько чашек надо добавить,  
чтобы всего стало шесть?



16

Сколько флажков нужно убрать,  
чтобы осталось три?




1



2



1



2




3




4



3




4



17

Выбери картинку,  
которая подходит к этому примеру.




$$4 + 3 = 7$$



18

Выбери картинку,  
которая подходит к этому примеру.

$$5 - 2 = 3$$



19

Реши пример. Выбери  
правильный ответ.

$$6 + 3 = \dots$$

1

10

2

9

3

6

4

8

20

Реши пример. Выбери  
правильный ответ.

$$7 - 2 = \dots$$

1

4

2

6

3

5

4

7

21

Реши задачу. Выбери  
правильный ответ.  
В саду растут три яблони  
и две груши. Сколько всего  
деревьев в саду?



1

4

2

5

1

2

2

1

22

Реши задачу. Выбери  
правильный ответ.  
На пруду плавали  
четыре утки. Две вышли на берег.  
Сколько осталось плавать?



3

7

4

6

3

4

4

3

23

Какая из этих фигур называется  
прямоугольником?

1



2



3




4




24

У какой из этих фигур  
нет углов?

1



2



3



4



